

# سلاح التلميذ

منذ عام ١٩٦٠

## الدراسات الاجتماعية

اختبارات على شهري أكتوبر ونوفمبر



2022 - 2021

الصف الرابع الابتدائي

4

## الاختبار ١

### السؤال الأول اختر الإجابة الصحيحة مما بين القوسين:

- ١ تُعدّ ..... من المصادر الأولية.  
(مذكرات الملك فاروق - كتاب قناة السويس - الأبحاث عن الأهرامات - موسوعة الآثار المصرية)
- ٢ أي من عناصر الخريطة التالية يُستخدَم عند رسم البحر الأحمر في ورقة صغيرة .....  
(العنوان - مقياس الرسم - وردة البوصلة - المفتاح)

### السؤال الثاني اكتب كلمة (صواب) أمام العبارة الصحيحة، وكلمة (خطأ) أمام العبارة غير الصحيحة:

- ١ يختلف مناخ مصر مع مناخ سيراليون. ( )
- ٢ يتوسط علم مصر نسر به نفس ألوان العلم. ( )

### السؤال الثالث أكمل العبارات التالية بما يناسبها من كلمات:

- ١ يمكنك كطالب الاستفادة من GPS في .....
- ٢ يحيط بعالمنا ..... محيطات.

### السؤال الرابع أمامك خريطة صماء لمحافظة القاهرة، اكتب مدلول الأرقام الموقعة عليها:

- ١ يشير رقم (١) إلى محافظة .....
- ٢ تحيط المحافظة رقم (٢) القاهرة من اتجاهي ..... و .....



محافظة القاهرة

### السؤال الخامس أجب عما يلي:

- ١ حدد أوجه التشابه والاختلاف بين بحيرة ناصر وبحيرة المنزلة.
- ٢ حدد أحد مظاهر الاحتفال بالعيد القومي لمحافظةك.





## الاختبار ٢

### السؤال الأول اختر الإجابة الصحيحة مما بين القوسين:

- ١ يشير الرمز المقابل إلى أحد عناصر الخريطة وهو .....  
 (خطوط الطول - دوائر العرض - وردة البوصلة - مقياس الرسم)
- ٢ يدل اللون ..... في علم دولة العراق على السلام.  
 (الأحمر - الأبيض - الأسود - الأخضر)

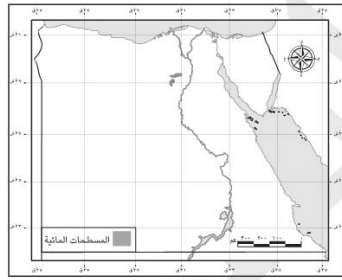
### السؤال الثاني اكتب كلمة (صواب) أمام العبارة الصحيحة، وكلمة (خطأ) أمام العبارة غير الصحيحة:

- ١ تساهم العاصمة الإدارية في تحسين الحياة لسكان محافظة القاهرة. ( )
- ٢ إذا أردت الاستمتاع بالشعاب المرجانية فعليك زيارة البحر المتوسط. ( )

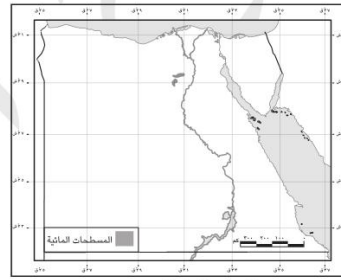
### السؤال الثالث أكمل العبارات التالية بما يناسبها من كلمات:

- ١ تنحصر الصحراء الشرقية بين نهر النيل غرباً و ..... شرقاً.
- ٢ المناخ ..... يسود معظم الأراضي المصرية.

### السؤال الرابع لاحظ الخرائط، ثم أجب:



الموارد المائية في مصر



الموارد المائية في مصر

- ١ العنصر الناقص بالخريطة (أ) هو .....
- ٢ نستفيد من العنصر الناقص في .....

### السؤال الخامس أجب عما يلي:

- ١ ما سبب اختيار القاهرة عاصمة لمصر على مر العصور؟
- ٢ صنف العبارات التالية إلى حقيقة ورأي: (هرم خوفو هو الهرم الأكبر - سفاجا أجمل مدن البحر الأحمر)

رأي	حقيقة



السؤال الأول اختر الإجابة الصحيحة مما بين القوسين:

- ١ أحد مظاهر الاحتفال بالعيد القومي لمحافظةك هو .....  
(تزيين الشوارع - إقامة الصلاة - غلق الأسواق - ذبح الأضحية)
- ٢ لتنفيذ مشروع يحتاج إلى مساحات كبيرة فعلينا التوجه إلى أكبر محافظات مصر مساحة وهي .....  
(الشرقية - بني سويف - الوادي الجديد - دمياط)

السؤال الثاني اكتب كلمة (صواب) أمام العبارة الصحيحة، وكلمة (خطأ) أمام العبارة غير الصحيحة:

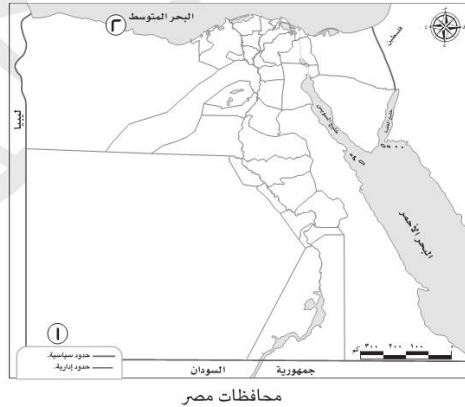
- ١ يقع اتجاه الشرق عكس اتجاه الغرب. ( )
- ٢ تمتد محافظات الوجه القبلي إلى خارج مصر. ( )

السؤال الثالث أكمل العبارات التالية بما يناسبها من كلمات:

- ١ يفصل بين قارتي إفريقيا وأمريكا الجنوبية المحيط .....
- ٢ تُصنّف محافظتك على أنها من محافظات .....

السؤال الرابع أمامك خريطة لمصر لاحظها جيدًا، ثم أجب:

- ١ يشير رقم (١) إلى هضبة .....
- ٢ يشير رقم (٢) للبيئة .....



السؤال الخامس أجب عما يلي:

- ١ قارن بين مصدر المياه في البيئة الصحراوية والبيئة الزراعية.
- ٢ حدد اثنين من المجالات التي تستفيد من بيانات الأرصاد الجوية.





## الاختبار ٤

### السؤال الأول اختر الإجابة الصحيحة مما بين القوسين:

- ١ يتشابه الطقس مع المناخ أن كليهما يوضح .....  
(حالة الجو - أشكال السطح - فصول السنة - الأنشطة الاقتصادية)
- ٢ اللحن الرائع للنشيد الوطني المصري من إبداع الفنان .....  
(يونس القاضي - عمار الشريعي - مصطفى الرافي - سيد درويش)

### السؤال الثاني اكتب كلمة (صواب) أمام العبارة الصحيحة، وكلمة (خطأ) أمام العبارة غير الصحيحة:

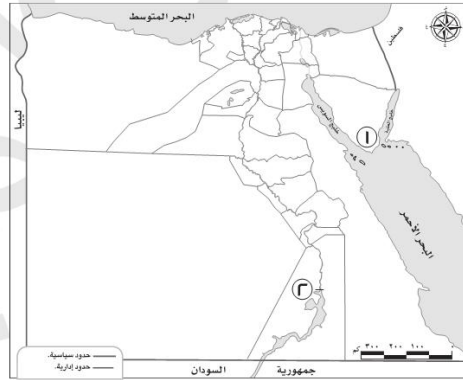
- ١ شبه جزيرة سيناء تحيط بها المياه من ثلاث جهات. ( )
- ٢ احتلت مصر دوراً رئيساً في التجارة حالياً بعد حفر قناة سيزوستريس. ( )

### السؤال الثالث أكمل العبارات التالية بما يناسبها من كلمات:

- ١ الظاهرة التضاريسية التي توجد في القاهرة وارتفاعها أقل من ١٠٠٠ متر هي .....
- ٢ البيئة التي تحيط بنهر النيل تُسمَّى بيئة .....

### السؤال الرابع أمامك خريطة لمصر لاحظها جيداً، ثم أجب:

- ١ يشير الرقم (١) لجبل .....
- ٢ يشير الرقم (٢) للسد .....



### السؤال الخامس أجب عما يلي:

- ١ حدد إحدى النتائج المترتبة على: حفر قناة السويس الجديدة؟
- ٢ وضح أهمية الخريطة للجيش.





## الاختبار ٥

### السؤال الأول اختر الإجابة الصحيحة مما بين القوسين:

- ١ تلوّن ..... على خريطة التضاريس باللون الأخضر الداكن.  
(المرتفعات - البحيرات - المنخفضات - البحار)
- ٢ من قارات العالم القديم ولا تقع بها مصر قارة .....  
(أمريكا الجنوبية - أمريكا الشمالية - إفريقيا - أوروبا)

### السؤال الثاني اكتب كلمة (صواب) أمام العبارة الصحيحة، وكلمة (خطأ) أمام العبارة غير الصحيحة:

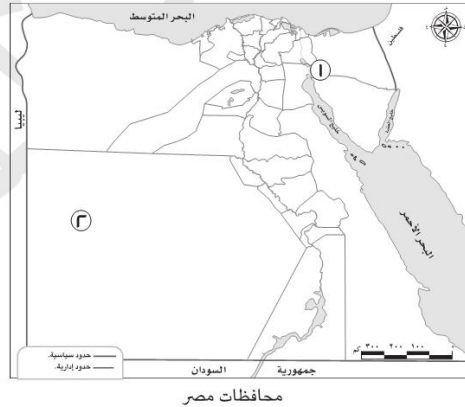
- ١ ترتبط البيئة الساحلية بوجود الأنهار. ( )
- ٢ الآراء تعبر عن وجهات النظر المختلفة حول موضوع معين. ( )

### السؤال الثالث أكمل العبارات التالية بما يناسبها من كلمات:

- ١ نحدد الاتجاه الصحيح على الخريطة باستخدام .....
- ٢ سُمّيت الصحراء السوداء بهذا الاسم؛ لأن سطحها تغطيه بقايا .....

### السؤال الرابع أمامك خريطة لمصر لاحظها جيدًا، ثم أجب:

- ١ يشير الرقم (١) إلى .....
- ٢ يشير الرقم (٢) إلى بحر .....



### السؤال الخامس أجب عما يلي:

- ١ فسّر سبب وجود اللون الأسود في علم مصر.
- ٢ حدد أحد أوجه التشابه بين الصور الجوية والصور الفضائية.



# سلاح التلميذ

منذ عام ١٩٦٠

## الدراسات الاجتماعية

الإجابات النموذجية على اختبارات شهري أكتوبر ونوفمبر



2022 - 2021

الصف الرابع الابتدائي

4



## إجابة الاختبار ١

### السؤال الأول:

- ١ مذكرات الملك فاروق.  
٢ مقياس الرسم.

### السؤال الثاني:

- ١ صواب.  
٢ خطأ.

### السؤال الثالث:

- ١ الوصول للأماكن. (تقبل جميع الإجابات الصحيحة).  
٢ خمسة.

### السؤال الرابع:

- ١ السويس.  
٢ الغرب والجنوب.

### السؤال الخامس:

- ١ - وجه التشابه: كلاهما بحيرة، يحيط بهما اليابس من جميع الجهات.  
- وجه الاختلاف: بحيرة ناصر هي بحيرة صناعية من المياه العذبة، بينما بحيرة المنزلة هي بحيرة طبيعية من المياه المالحة.  
٢ تُتْرَكُ الإجابة للتلميذ، مثل: تزيين الشوارع، إقامة الاحتفالات.

## إجابة الاختبار ٢

### السؤال الأول:

- ١ مقياس الرسم.  
٢ الأبيض.

### السؤال الثاني:

- ١ صواب.  
٢ خطأ.

### السؤال الثالث:

- ١ البحر الأحمر.  
٢ الصحراوي الحار.

### السؤال الرابع:

- ١ وردة البوصلة.  
٢ تحديد المواقع.

### السؤال الخامس:

- ١ لموقعها المتميز؛ لأنها نقطة التقاء الوجهين القبلي والبحري.  
٢ - الرأي هو (سفاجا أجمل مدن البحر الأحمر)  
- الحقيقة (هرم خوفو هو الهرم الأكبر).







### إجابة الاختبار ٣

#### السؤال الأول:

١ تزيين الشوارع.

٢ الوادي الجديد.

#### السؤال الثاني:

١ صواب.

٢ خطأ.

#### السؤال الثالث:

١ الأطلنطي.

٢ يجب التلميذ بحسب محافظته إحدى هذه الإجابات (الحدود - الوجه البحري - الوجه القبلي).

#### السؤال الرابع:

١ الجلف الكبير.

٢ الساحلية.

#### السؤال الخامس:

١ مصدر المياه في البيئة الصحراوية: المياه الجوفية أو الآبار ، ومصدر المياه في البيئة الزراعية نهر النيل.

٢ تقبل جميع الإجابات الصحيحة مثل: الزراعة - النقل الجوي.

### إجابة الاختبار ٤

#### السؤال الأول:

١ مطروح.

٢ سيد درويش.

#### السؤال الثاني:

١ صواب.

٢ خطأ.

#### السؤال الثالث:

١ التل - تلال المقطم (إجابة التلميذ بواحدة من الإجابتين تُحتسب إجابة صحيحة).

٢ زراعية.

#### السؤال الرابع:

١ سانت كاترين.

٢ العالي.

#### السؤال الخامس:

١ تقليل زمن مرور السفن في قناة السويس.

٢ تساعد على تحديد المواقع الحربية.





## إجابة الاختبار 5

### السؤال الأول:

١ المنخفضات.

### السؤال الثاني:

١ خطأ.

### السؤال الثالث:

١ وردة البوصلة.

### السؤال الرابع:

١ قناة السويس.

### السؤال الخامس:

١ ليرمز إلى فترة الاستعمار.

٢ تساعدنا على رسم الخرائط (تُقبَل جميع الإجابات الصحيحة).

٢ أوروبا.

٢ صواب.

٢ الانفجارات البركانية.

٢ الرمال العظيم.

